



Prüfungsvorbereitungsaufgaben „CAD (Computer Aided Design)“

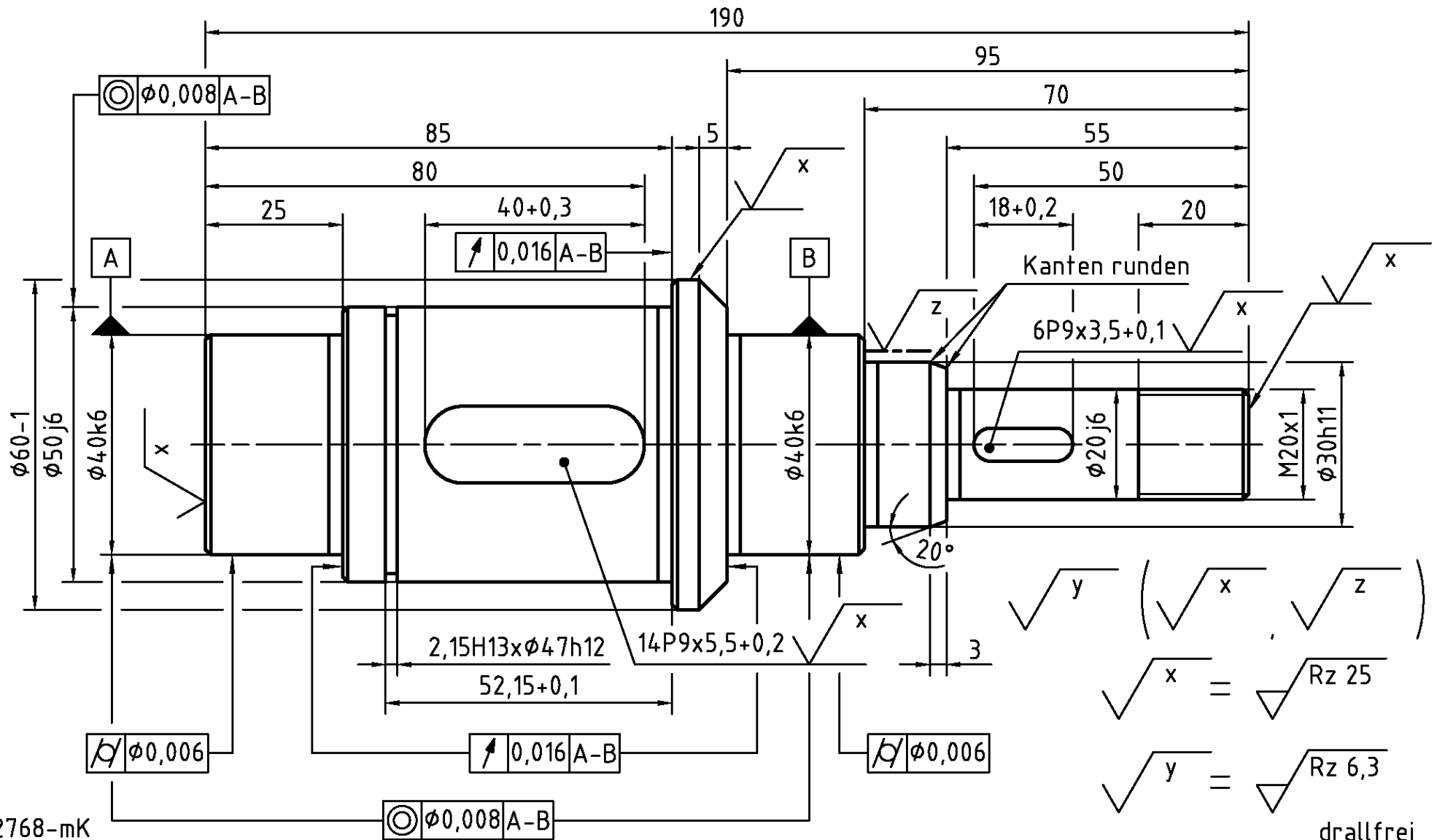
Urheber: Laura Altland, Fabian Dillenhöfer, Bernd Künne, Ulrike Willms

Lizenz: CC BY 4.0 (<https://creativecommons.org/licenses/by/4.0/legalcode>)

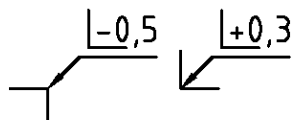
Ausgenommen aus der Lizenz sind Logos und Normen.

Prüfungsvorbereitungsaufgabe 3 – Technische Zeichnung einer Welle

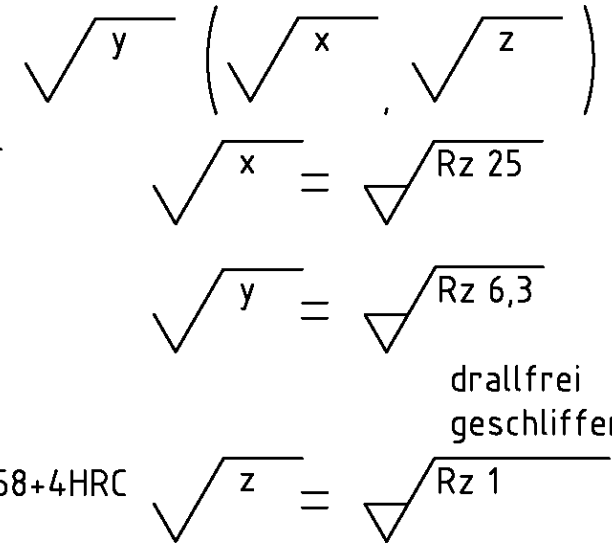
Zeichnen Sie die dargestellte Welle einschließlich aller Bemaßungsangaben in einem Maßstab von 1:1 mithilfe eines CAD-Programmes.



ISO 2768-mK
 DIN 509 F0,8x0,3
 DIN 76-B
 nicht bemaßte Fasen 1x45°
 Werkstückkanten ISO 13715



----- einatzgehärtet und angelassen 58+4HRC
 Eht=0,8+0,4



drallfrei
 geschliffen